

Нестандартный урок-путешествие для учащихся спортивного-футбольного 6 класса.

«Сложение чисел, с помощью координатной прямой».

(урок изучения новых знаний)

Цели:

- Систематизировать и расширить знания учащихся о координатной прямой, о действиях с числами на координатной прямой;
- Развивать логическое мышление, умение анализировать. делать вывод;
- Воспитывать самостоятельность, четкость и аккуратность в действиях;
- Расширить кругозор учащихся;
- Способствовать развитию познавательного интереса.

Учебный материал рассчитан на два урока.

Учебник: Математика 6 класс. Учебник для общеобразовательных учебных заведений. Под ред. Виленкин Н.Я. М. «Мнемозина 2008».

Оборудование: Презентация «Сложение чисел с помощью координатной прямой».

Ход урока

- 1) Организационный момент;
- 2) Постановка цели урока;
- 3) Актуализация опорных знаний (устная работа).
- 4) Историческая справка
- 5) Закрепление изученного материала, повторение и обобщение.
- 6) Формирование умений и навыков

Сегодня у нас с вами необычный урок, мы с вами совершим путешествие во времени и пространстве, преодолеем десятки и сотни лет, увидим фрагменты футбольных матчей и известных футболистов, но для начала потренируемся – устный счет.

Координатная шкала на интерактивной доске.

- 1) Вычислите устно:
- | | |
|------------|----------------|
| $2 : 4;$ | $0,4 \cdot 4;$ |
| $\cdot 6;$ | $+5,2;$ |
| $- 1,8;$ | $-2;$ |
| $- 0,12.$ | $:6.$ |

Объясните смысл предложения:

- 2) Изменения температуры равно $20; -30; -5; +4,5; -1,7;$
3) Изменение времени 10 лет; -20 лет; $+65$ лет;
4) Среди данных чисел укажите: $1,6; -2\frac{1}{4}; 0; -(\frac{3}{7}); 12; -19;$

- положительные
- отрицательные
- не положительные
- не отрицательные

- 5) Сравните числа: -20 и $-5;$ -30 и $0;$

Ура! Мы продолжаем наше путешествие.

Внимание! Приготовиться к отбытию. Мы отправляемся в Англию 18 века, на 147 лет в прошлое. Начало отсчета 2010. Мы изменили дату на -147 лет. Уменьшилось или увеличилось число? Запишите на доске:

$$2010+(-147)=1863\text{г.}$$

Так, мы оказались в одной из Лондонских таверн, где собрались представители футбольных клубов Английской столицы и ее пригородов, чтобы утвердить правила игры. 26 октября 1863 года – день рождения современного футбола.



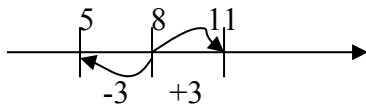
Под запись в тетради: Прибавить к числу a число b – значит изменить число a на b единиц. Любое число от прибавления положительного числа увеличивается, а от прибавления отрицательного числа уменьшается.

Для дальнейшего путешествия нужно научиться работать с машиной времени, то есть работать по координатной прямой времени и научиться этому должен весь экипаж.

Изучение нового материала.

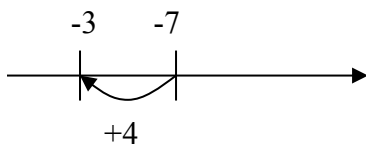
Пример №1

Сложение числа 8 с числами 3 и -3 на координатной прямой.



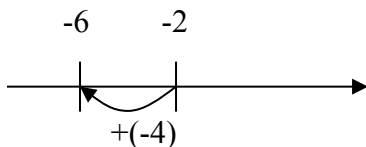
Пример №2

Найдем сумму -7 и 4.



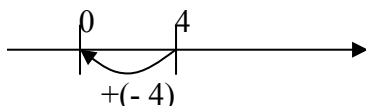
ПРИМЕР №3

Найдем сумму чисел -2 и -4.



Пример №4

Найдем сумму 4 и -4



Запомнить правила:

Сумма двух противоположных чисел равна нулю.

От прибавления нуля число не изменяется.

Потренируемся еще:

№1020

Найти с помощью координатной прямой сумму чисел:

а) -1 и 2

б) 3 и -4

в) -3 и 6

ж) $-\frac{2}{3}$ и $\frac{1}{3}$

з) $-1\frac{1}{3}$ и $-\frac{1}{3}$

Молодцы. Мы справились, и теперь мы увидим самые яркие моменты известных матчей в футболе.

Видео самых ярких моментов футбольных матчей.

Учимся у лучших футболистов мира забивать голы. Но не торопитесь, а то можно забить мяч в свои ворота (смотрим упражнение с футбольными мячами на слайде).

А теперь мы отправимся в совсем далекое прошлое в Англию, для этого мы должны выполнить следующие упражнения:

№1021

Выполните сложение чисел:

а) 4 и 0

б) 0 и -3

в) -5 и 0

г) -3 и 3

д) 7 и -7

№1022

Найдите значение выражения:

а) $(-3,9+3,9) + (-9,1)$

б) $0 + (4,8 + (-4,8))$.

№1023

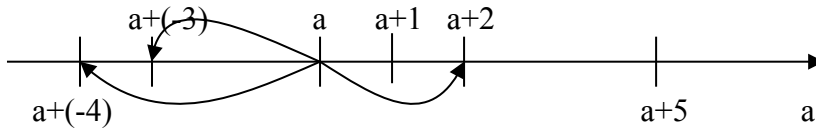
На координатной прямой отмечены числа a и $a+1$. Изобразите на этой же прямой числа:

1) $a + 2$

б) $a + (-3)$

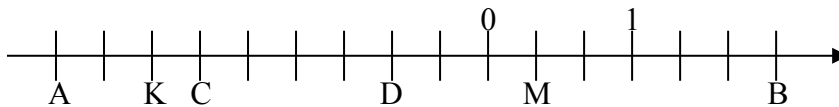
в) $a + (-4)$

г) $a + 5$



№1027

Назовите координаты точек А, К, С, D, М и В.



Внимание, мы присутствуем при оглашении указа Эдуарда II от 13 апреля 1314 года, жителям Лондона, который под страхом тюремного заключения запрещал футбол в городе. Также в 1365 настал черед Эдуарда III запретить футбол, ввиду того, что войска предпочитали эту игру совершенствованию в стрельбе из лука. Ричард II в своем запрете упомянул в 1389 и футбол, и кости, и теннис. Футбол не нравился последующим английским монархам от Генриха IV до Якова IV.

Наша машина поломалась. Что же делать? Найдем логическую ошибку, которая сделает нашу машину исправной:

-10 -8 -6 -4 -1 ;

Найти ошибку:

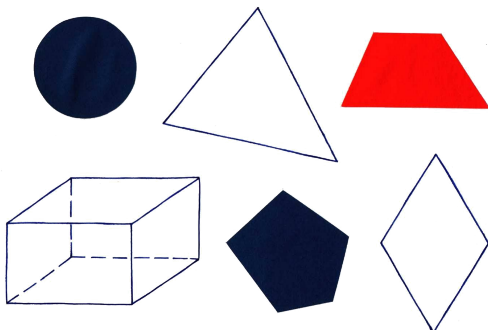
$$0 < 300$$

$$30 < -20$$


$$-6,8 < 0$$

$$-3,11 < 3,1$$

Какая фигура лишняя?



Из предметов какой формы сложена пирамида? (назвать снизу вверх)



Причину поломки зашифрована в фразе. Каждому ответу на задание соответствует определенная буква, выставите их по порядку.

1ряд	2ряд	3ряд
1)-3 + 2	1)-2 + 2	1)-0,5 + 0
2) -2 + (-1)	2)-0,5 + 2	2)-2 + 5
3)-1,5 + 0	3)-1 + 4	3)2,5 + (-2)
4)1 + 0	4)-3 + (-2)	4)-1 + (-3)
5) 3+(-1)	5)-3 + 3	5)-1 + 2
6) -1+(-1)	6) -1 +1,7	6) -1 + 4
		7)-3+0
		8) -2+3

Поможет в решении координатная прямая.

Л	Т	Н	Й	Е	Я	В
-1	1	-1,5	-2	-3	2	1,5
О	Р	Б	А	Д	Ж	Ы
-4	-0,5	0,5	3	0	-5	0,7

Садимся в машину времени и мы у себя в Воронеже. Как развивался воронежский юношеский футбол? Наша область богата футбольными талантами, воспитанники Земли Воронежской с успехом выступали и сейчас защищают цвета лучших клубов страны. Все болельщики знают Александра Бородюка, Владимира Проскурина, Валерия Шматов, которые носили футболки столичных команд: Динамо, ЦСКА, Спартак, Торпедо.

А теперь давайте напишем самостоятельную работу.

Самостоятельная работа:

I вариант

1)С помощью координатной прямой сложите числа:

- а) 5 и -2;
- б) -3 и 7;
- в) -4 и -3;
- г) -2,5 и 1,5;
- д) 4,5 и -2;
- е) -2,5 и -1,5.

2) Найдите значение выражения:

- а) $(-18,7+18,7) + (-7)$;
- б) $(0+(-2,4)) + 2,4$.

II вариант.

1)С помощью координатной прямой сложите числа:

- а) 8 и -3;
- б) -2 и 6;
- в) -5 и -4;
- г) -3,5 и 2,5;
- д) 4,5 и -3;
- е) -1,5 и -2,5.

2)Найдите значение выражения:

- а) $(-37,4+37,4) + (-10)$;
- б) $((-3,6)+0) + 3,6$.

Решите задачи:

№1

Команда Факел(Воронеж) 4 сезона находилась в высшей лиге(1992,1997, 2000-2001г). За это время они выиграли 31 игру, что составило 25% всех игр. Сколько игр они сыграли за время пребывания в Высшей лиге?

$$31 : \frac{1}{4} = 124 \text{ игр}$$

Ответ:124 игр.

№2

За 4 сезона Командой Факел было сыграно 125 игр, из них проигрышных было 52%. Сколько игр проиграла команда?

$$125 \cdot 0,52 = 65$$

Ответ: 65 игр.

№3

За время пребывания в Высшей Лиге (1992-2009г) команда «Спартак»(Москва) сыграла 550 партий, из них выигрышных 330, какой процент выигрышных партий у команды «Спартак»?
 $100 \cdot 330/550 = 100 \cdot 0,6 = 60$

Ответ: 60%.

1996 год. Воронежская команда ВАССА Факел, оказалась в группе с 3 норвежцами, ребята сыграли выше всех похвал. Команда ВАССА ФАКЕЛ признана лучшей и стала обладателем кубка Норвегии 1996 года. Успех команды разделил ее наставник – Юрий Черноусов.

1998 – год создания детской лиги футбола.

Спасибо за урок! Он научил нас творчески мыслить, работать в команде и трудиться добросовестно! Желаю вам дальнейших успехов в спорте и учебе.

Дополнительно:

Повторение:

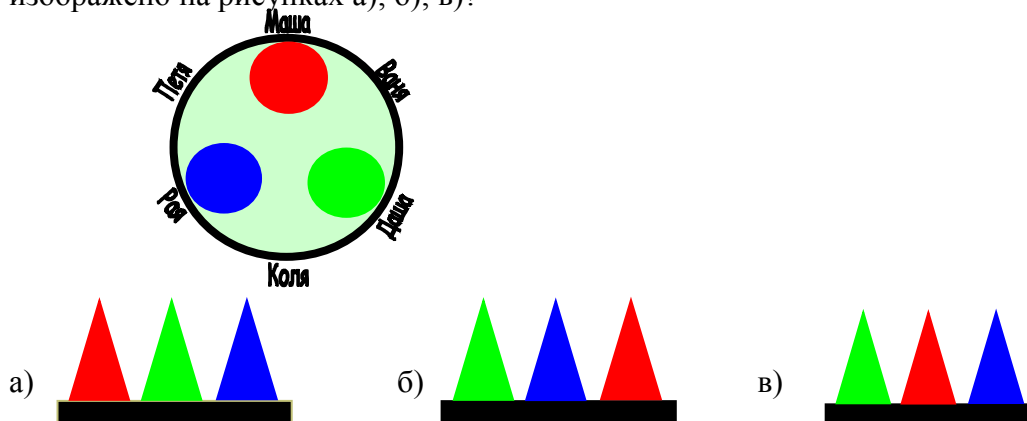
№1033

№1034

№1035

Дополнительное задание:

На круглом столе стоят три конуса разного цвета: красный, синий и зелёный. Вокруг стола сидят дети: Маша, Ваня, Даша, Коля, Рая и Петя. Кто из детей видит такую картину, как изображено на рисунках а); б); в)?



№1033

78% всех выстрелов попало в цель. Сколько было сделано выстрелов, если в цель попало 156 пуль?

Число выстрелов ? пуль – 100%

Число попаданий 156 пуль – 78%

Решение:

1) $78\% = 0,78$

$$2) 156 : 0,78 = 15600 : 78 = 200$$

Ответ: 200 пульт.

№1034

От провода длиной 13 м отрезали 30% его длины. Сколько метров провода осталось?

Решение:

Весь провод 13 м – 100%

Отрезали ? м – 30%

$$1) 30\% = 0,3$$

$$2) 13 \cdot 0,3 = 3,9 \text{ (м) отрезали}$$

Ответ: 3,9 (м) отрезали.

№1035

Из 15 срезанных цветов 9 завяло. Сколько процентов срезанных цветов завяло?

Все цветы 15 – 100%

Увявшие 9 - ?%

Решение

$$1) \frac{9}{15} \cdot 100 = \frac{3}{5} \cdot 100 = 60\%$$

Ответ: 60 %.

Домашнее задание

№1032

№1039

№1037